





# CADERNO DE PROVA

-  12 de abril de 2015
-  08h às 11h 30 min
-  3h 30 min de duração\*
-  40 questões

Emprego

## Atendente Odontológico

### Atenção

Confira o número que você obteve no ato da inscrição com o que está indicado no cartão-resposta.  
\* A duração da prova inclui o tempo para o preenchimento do cartão-resposta.

#### Instruções

Para fazer a prova você usará:

- este caderno de prova;
- um cartão-resposta que contém o seu nome, número de inscrição e espaço para assinatura.

Verifique, no caderno de prova, se:

- faltam folhas;
- a sequência de questões está correta;
- há imperfeições gráficas que possam causar dúvidas.

**Comunique imediatamente ao fiscal qualquer irregularidade.**

#### Informações importantes

- Não é permitido qualquer tipo de consulta durante a realização da prova.
- Para cada questão são apresentadas 5 (cinco) alternativas diferentes de respostas (a, b, c, d, e). Apenas uma delas deverá ser assinalada.
- A interpretação das questões é parte integrante da prova, não sendo permitidas perguntas aos fiscais.
- Não destaque folhas da prova.

Ao terminar a prova, **entregue ao fiscal o caderno de prova completo e o cartão-resposta** devidamente preenchido e assinado.



## Conhecimentos Gerais

(20 questões)

Leia o texto abaixo para responder às questões de número 1 a 6.

### **A Argentina parece ter um único destino: o Maracanã**

*O país volta a uma semifinal depois de 24 anos, mas chega entre os quatro melhores sem brilhar, reunindo os fatores persistência, luta, sorte e frieza*

*Por Fabio Chiorino — publicado 05/07/2014  
15:45*

Oito minutos. Foi o suficiente para perceber que a Argentina não queria sofrer novamente, após uma dura vitória contra a Suíça na prorrogação. O oportunismo de Higuain deu a tônica dos três jogos das semifinais já concluídos: a camisa pesa. Demais. A Bélgica parecia disputar um amistoso qualquer. Nenhum sinal daquele time bem organizado, rápido nos contra-ataques, que parecia enfim dar razão aos que anunciavam a crença na “ótima geração belga”.

Mas a lesão de Di Maria tirou um pouco do ímpeto dos albicelestes. Tirou a possibilidade de matar o jogo ainda no primeiro tempo. Justamente numa tarde em que Messi parecia com pressa para resolver logo a partida, algo recorrente nesta Copa do Mundo.

O segundo tempo apresentou o mesmo roteiro. A Argentina tinha a bola e as melhores chances de marcar novamente. Higuain bateu uma bola na trave, enquanto os belgas olhavam conformados. Mesmo quando os Diabos ganhavam algumas jardas, faltava aquela convicção que separa as seleções esforçadas das vencedoras. E nada mudou até o final. Um jogo que guardou emoções apenas para os acréscimos, em lances desperdiçados por ambas as seleções.

A Argentina volta a uma semifinal depois de 24 anos. Aguarda agora o vencedor de Holanda e Costa Rica. Chega entre os quatro melhores sem brilhar. Mas ninguém brilhou até agora nessa Copa do Mundo marcada por jogos bastante disputados e com muitas surpresas na fase de grupos. A Argentina disputa uma vaga na final reunindo os elementos clássicos: persistência, luta, sorte, frieza. E com o diferencial de ter um camisa 10 sempre apto a tirar uma genialidade da cartola.

Na TV, um repórter conversa com um torcedor argentino, que confessa ter torcido pelo Brasil ontem. “Ninguém mais do que nós sonha com uma final de Copa do Mundo contra o Brasil”. Pelos pés de Neymar e Messi, esse sonho ficou mais perto de se realizar. Seria épico. Uma pena que já não é possível ter os dois duelando no mesmo palco do Maracanã.

CHIORINO, Fábio. **A Argentina parece ter um único destino:** o Maracanã. Disponível em: <<http://www.cartacapital.com.br/sociedade/a-argentina-parece-ter-um-unico-destino-o-maracana-1220.html>>. Acesso em: 6 jul. 2014.

- 1- O sintagma “o Maracanã” foi utilizado no título do texto com o objetivo principal de
  - A. enfatizar o quão traumático foi o jogo da Argentina contra a Bélgica.
  - B. lembrar que a Seleção Brasileira de Futebol já foi derrotada pela Argentina no estádio do Maracanã.
  - C. acentuar que a Copa do Mundo se passa no Brasil, utilizando, para tanto, o nome do estádio mais famoso deste país.
  - D. destacar que o estádio do Maracanã é o maior do mundo.
  - E. fazer referência à provável classificação da seleção da Argentina para a fase final da Copa do Mundo no Brasil.

- 2- Na opinião do autor, evidenciada no fragmento textual posicionado imediatamente abaixo do título da notícia, a seleção da Argentina
- A. representa uma séria ameaça ao hexacampeonato brasileiro.
  - B. contou exclusivamente com a sorte para ter conseguido chegar tão longe no torneio.
  - C. classificou-se com um estilo de jogo menos encantador do que o esperado.
  - D. é a única seleção que não demonstrou brilho em seu futebol entre as quatro classificadas.
  - E. demonstrou falta de convicção em seu jogo contra a Bélgica.
- 3- Aos elementos clássicos, o autor menciona que a seleção da Argentina incorpora outro fator que a favorece na busca pelo título mundial. Que fator é este?
- A. Espírito aguerrido.
  - B. Persistência.
  - C. Força e sorte.
  - D. Um camisa 10 genial.
  - E. Um ataque composto por três jogadores geniais: Di Maria, Messi e Higuain.
- 4- No momento da publicação da notícia,
- A. o adversário da Argentina na semifinal da Copa ainda não estava definido.
  - B. a Argentina preparava-se para enfrentar a Holanda na semifinal do torneio.
  - C. a Argentina preparava-se para enfrentar a Costa Rica na semifinal do torneio.
  - D. a Argentina havia vencido a Bélgica na semifinal da Copa.
  - E. Holanda e Costa Rica ainda não sabiam qual adversário iriam enfrentar na semifinal da Copa, caso avançassem para esta etapa do torneio.
- 5- “Uma pena que já não é possível ter os dois duelando no mesmo palco do Maracanã”. Com esta frase, o autor
- A. faz referência à eliminação precoce de Argentina.
  - B. informa que, em função da tabela do torneio, Argentina e Brasil não têm chance de se enfrentar na final da Copa.
  - C. esclarece que, devido ao fato de Brasil e Argentina jogarem em estádios diferentes, não será possível ver Messi e Neymar jogando um contra o outro no Maracanã.
  - D. faz referência a um fato não citado diretamente na notícia, o qual inviabilizará o encontro entre Messi e Neymar na final da Copa.
  - E. faz referência ao cartão amarelo recebido por Messi, o qual o impossibilitará de jogar contra o Brasil de Neymar.
- 6- “Ninguém mais do que nós sonha com uma final de Copa do Mundo contra o Brasil”. Este fragmento encontra-se entre aspas no último parágrafo do texto, o que, associado ao contexto, indica que
- A. tratam-se das palavras do autor da notícia.
  - B. o enunciado foi proferido por um repórter argentino que entrevistava um torcedor em Buenos Aires.
  - C. o fragmento em questão representa a fala de um torcedor argentino.
  - D. o torcedor argentino que produziu o enunciado estava sendo irônico.
  - E. o autor da notícia escreve com ironia.

Leia o texto abaixo para responder às questões de número 7 a 12.

#### **Direito à manifestação em grave risco**

*Notícia - 2 - jul - 2014*

*Em São Paulo, prisão de estudante e professor em protesto pacífico reforça a política de repressão que governos têm adotado como única resposta às manifestações.*

Na última terça-feira, dia 1º de julho, observamos uma nova demonstração da incapacidade do poder público de respeitar o

direito à manifestação dos cidadãos brasileiros e abrir canais de diálogo com a população.

Em ato pacífico contra a prisão do estudante Fábio Hideki e do professor Rafael Lusvarghi, detidos em protesto no dia 23 de junho, em São Paulo, policiais agiram com força desmedida visando constranger e dispersar os presentes. Contando com a presença da Cavalaria e da Tropa de Choque, e o uso de técnicas de intimidação, a polícia, mais uma vez, demonstra que está a serviço de agenda de governantes que entendem que a repressão é a melhor forma de responder à voz das ruas. Ainda que o ato fosse pacífico, seis pessoas foram detidas, novamente sem evidências de crime apresentadas.

Não existe democracia se não há espaço para manifestação pacífica, diálogo e participação popular, sempre que o povo julgar necessário. Entretanto, o que se vê é a escalada dos casos de abuso do poder repressivo com o objetivo de forçar a população a se calar, e até mesmo prisões arbitrárias já são um fato cotidiano.

O Greenpeace segue junto na luta pela garantia de direitos dos cidadãos, e soma sua voz à de todas e todos que lutam por um país melhor, com democracia real.

Como organização fundada sob o princípio da não-violência e do ativismo, seguiremos nas ruas apoiando o direito da população de expressar seus anseios por mudanças e também para condenar qualquer tentativa de criminalizar movimentos sociais e indivíduos.

GREENPEACE, Notícia. **Direito à manifestação em grave risco**. Disponível em: < <http://www.greenpeace.org/brasil/pt/Noticias/Direito-a-manifestacao-em-grave-risco/>>.

Acesso em: 6 jul. 2014.

- 7- Além de evidenciar a prisão do estudante Fábio Hideki e do professor Rafael Lusvarghi, o texto aponta para aquilo que, na visão do autor, é um problema ainda maior. Que problema é esse?
- A. As ineficientes técnicas de intimidação utilizadas pela polícia.
  - B. O uso da Cavalaria associado à Tropa de Choque, duas forças policiais que, utilizadas paralelamente, demonstram a falta de organização tática da polícia brasileira.
  - C. A superlotação nos presídios do Brasil.
  - D. O desrespeito ao direito que todos os cidadãos têm de responder pelos crimes cometidos em liberdade.
  - E. O desrespeito ao direito que as pessoas têm de se manifestarem pacificamente.
- 8- Ao afirmar que os “policiais agiram com força desmedida”, o autor quer dizer que
- A. os policiais tinham mais força do que a população.
  - B. a força dos policiais era insuperável.
  - C. os policiais não usaram a força em proporções adequadas.
  - D. a Cavalaria e a Tropa de Choque mediram forças para demonstrar qual dos organismos policiais era o mais eficiente.
  - E. os policiais utilizaram de força no momento em que era necessário apaziguar os ânimos dos manifestantes, os quais estavam bastante alterados.
- 9- O texto foi publicado como sendo
- A. uma crônica.
  - B. um artigo de opinião.
  - C. uma reportagem.
  - D. uma notícia.
  - E. um conto.
- 10- Qual das perguntas abaixo não pode ser respondida com base em informações presentes no texto?
- A. Onde se deu a prisão do estudante e do professor?
  - B. Que entidade é responsável pela autoria do texto?
  - C. Que órgão é o responsável pelo desrespeito ao direito à manifestação por parte dos cidadãos?

- D. Quando ocorreu a prisão do estudante e do professor?
- E. Como o Greenpeace formalizará um pedido ao poder público para que este conceda liberdade ao estudante e ao professor detidos?
- 11- Segundo o autor, “prisões arbitrárias já são um fato cotidiano”. O que são prisões arbitrárias?
- A. Prisões que acontecem ao ar livre.
- B. Prisões cuja ordem é expedida por uma câmara de arbitragem.
- C. Prisões realizadas pela polícia no momento da prática de um crime, de modo que, por esta razão, não dependem do aval de um juiz.
- D. Prisões efetuadas a mando de um árbitro.
- E. Prisões que não encontram respaldo legal ou não atendem a um critério bem estabelecido.
- 12- Levando em consideração o texto e a sua referência, de qual das datas abaixo o leitor não toma conhecimento?
- A. Data de publicação da notícia no site do Greenpeace.
- B. Data em que seis pessoas foram detidas.
- C. Data da prisão do estudante e do professor.
- D. Data em que a notícia foi visualizada no site do Greenpeace.
- E. Data do mais recente confronto entre o poder público e a polícia.

Leia o texto abaixo para responder às questões de número 13 a 20.

### **Líderes em déficit habitacional fizeram menor uso do *Minha Casa, Minha Vida***

*Carlos Madeiro*  
*Do UOL, em Maceió*  
*07/07/201406h00*

Criado em 2009 para ser o maior programa habitacional da história do país, o Minha Casa, Minha Vida teve resultado positivo na redução do déficit habitacional, mas agiu de forma desigual entre os Estados.

O **UOL** comparou as planilhas de unidades financiadas pelas duas fases do programa, desde 2009, com o déficit habitacional oficial apontado pelo Ipea (Instituto de Pesquisa Econômica Aplicada) no ano em questão.

O resultado aponta que, enquanto alguns Estados tiveram contratações em número até maior que a necessidade estimada, aqueles com maiores déficits não conseguiram aproveitar o Minha Casa, Minha Vida para reduzi-los em grande quantidade.

Até março, 3,3 milhões de unidades já haviam sido contratadas pelo programa, o que representa 59% do déficit habitacional estimado em 2009. A presidente Dilma Rousseff anunciou uma terceira etapa do programa na semana passada.

### **Estados líderes**

Um exemplo de uso ruim do programa são as contratações do Amazonas, que atingiu o menor percentual no país.

Em 2009, o Estado tinha um déficit habitacional de 17% de moradias -- o segundo maior do país -, estimado em 155 mil unidades. Cinco anos depois, as contratações do Minha Casa Minha Vida somaram apenas 44 mil, ou seja, 28% do total de falta de residências.

Líder em déficit à época, com 23% da população nessa condição, o Maranhão também teve resultado abaixo da média, com a contratação de 143 mil unidades --35% do déficit total estimado.

Acre, Amapá, Ceará e Distrito Federal, por sua vez, não conseguiram suprir nem sequer 40% do déficit estimado em 2009.

Enquanto isso, Estados que tinham menor déficit em 2009 conseguiram ter contratações em número próximo ou até maior que a falta de unidades nesses cinco anos. Foi o caso de Rio Grande do Sul e Goiás, onde as

contratações superaram o déficit estimado, chegando a 105% e 103%, respectivamente.

MADEIRO, Carlos. **Líderes em déficit habitacional fizeram menor uso do Minha Casa, Minha Vida.** Disponível em: <<http://noticias.uol.com.br/politica/ultimas-noticias/2014/07/07/lideres-em-deficit-habitacional-fizeram-menor-uso-do-minha-casa-minha-vida.htm>>. Acesso em: 7 jul. 2014.

13- Há quantos anos está em funcionamento o programa Minha Casa, Minha Vida? Para responder a esta questão, leve em conta apenas os anos completos, desconsiderando meses que, somados, ainda não correspondem a um ano inteiro.

- A. Quatro anos.
- B. Cinco anos.
- C. Seis anos.
- D. Sete anos.
- E. Oito anos.

14- Qual é a maior surpresa revelada pela notícia?

- A. O fato de os estados com menor déficit habitacional não fazerem uso do programa Minha Casa, Minha Vida, inaugurado em 2009 justamente para amenizar este problema.
- B. O uso arbitrário do dinheiro público nos estados com maior déficit habitacional, que recebem o fundo do programa Minha Casa, Minha Vida, mas não dão aos recursos o devido destino.
- C. O fato de o Minha Casa, Minha Vida privilegiar os estados de menor índice de déficit habitacional.
- D. O fato de o país ter um dos programas habitacionais mais eficientes da história.
- E. O fato de o país contar com um programa habitacional que não está sendo devidamente aproveitado justamente pelos estados com maior déficit habitacional.

15- Em relação ao déficit habitacional estimado em 2009 no país, é possível afirmar que o Minha Casa, Minha Vida

- A. já reduziu em mais da metade a demanda por unidades habitacionais estimadas no período.
- B. já reduziu em dois terços a demanda por unidades habitacionais estimadas no período.
- C. já reduziu em três quartos a demanda por unidades habitacionais estimada no período.
- D. não apresentou redução significativa, sendo que mais da metade da demanda por unidades habitacionais ainda não foi sanada.
- E. superou a demanda por unidades habitacionais estimada no período.

16- Qual era o estado líder em déficit habitacional no ano de criação do programa Minha Casa, Minha Vida?

- A. Amazonas.
- B. Maranhão.
- C. Acre.
- D. Amapá.
- E. Ceará.

17- Qual foi o estado que, proporcionalmente, apresentou a menor capacidade de resolver seu problema de déficit habitacional através do uso de recursos do Minha Casa, Minha Vida?

- A. Amazonas.
- B. Maranhão.
- C. Acre.
- D. Amapá.
- E. Ceará.

18- Dos estados citados, quantos não conseguiram suprir nem sequer 40% do déficit estimado em 2009?

- A. Dois.
- B. Três.
- C. Quatro.
- D. Cinco.
- E. Seis.





## Conhecimentos Específicos

(20 questões)

- 21- Dentre as alternativas listadas abaixo, identifique aquelas que são consideradas, funções de um auxiliar de saúde bucal:
- I - Organizar o consultório.
  - II - Higienizar e esterilizar os instrumentos e equipamentos.
  - III - Preencher a ficha clínica dos pacientes.
- A. Os itens “I” e “II”
  - B. Os itens “I” e “III”
  - C. Os itens “II” e “III”
  - D. Todas as alternativas
  - E. Nenhuma das Alternativas
- 22- Nas consultas odontológicas é praxe o preenchimento de um questionário, a respeito do paciente, em que são colhidas informações diversas, como o estado de saúde geral e bucal do mesmo. Qual das alternativas listadas abaixo expõe o jargão técnico empregado para este procedimento?
- A. Exame Clínico
  - B. Exame Inicial
  - C. Exame de saúde
  - D. Anamnese
  - E. Diagnóstico
- 23- Diversos termos técnicos são empregados para descrever questões específicas da odontologia. Os termos, lingual ou palatal, distal, mesial e vestibular, estão relacionados com qual das alternativas a seguir.
- A. Técnicas de escovação.
  - B. As faces de um dente.
  - C. Modelos de brocas.
  - D. Tipos de espátulas para resina.
  - E. Cores de resina composta.
- 24- Os procedimentos odontológicos são realizados com o auxílio de diversos instrumentos. Dentre as alternativas abaixo, qual lista os instrumentos que devem estar dispostos na bandeja no início da realização de um exame clínico?
- A. Pinça clínica, fio de sutura, porta agulha e tesoura.
  - B. Pinça clínica, espelho e curetas.
  - C. Espelho, pinça clínica, sonda exploradora, seringa tríplice e porta agulha.
  - D. Porta matriz, matriz, sonda exploradora e espelho.
  - E. Espelho, sonda exploradora, pinça clínica e pinça periodontal.
- 25- Cada instrumento usado na odontologia tem funções específicas. Qual das opções listadas abaixo descreve a função dos Fórceps em tratamentos odontológicos?
- A. Tratamento endodôntico.
  - B. Extração de dentes.
  - C. Raspagem de tártaro.
  - D. Restauração em amálgama.
  - E. Aplicação de selante.
- 26- Como é chamado o processo de endurecimento das resinas compostas durante a exposição radiação luminosa específica?
- A. Autopolimerização.
  - B. Cristalização.
  - C. Radiação.
  - D. Revelação.
  - E. Fotopolimerização.
- 27- Qual das alternativas abaixo reflete a quantidade de elementos dentários presentes em uma dentição permanente completa?
- A. 32
  - B. 28
  - C. 30
  - D. 36
  - E. 26

- 28- Durante a realização de um exame radiológico dentro de um consultório dentário, o colete de chumbo deve ser utilizado. Qual das alternativas descreve a pessoa no interior do consultório que deve fazer uso deste colete?
- A. O auxiliar de saúde bucal.
  - B. Apenas para as pacientes que estiverem em período gestacional.
  - C. Todo o paciente que realizar o exame.
  - D. Somente para pacientes que alegar problemas de saúde.
  - E. O dentista.
- 29- A revelação de películas radiográficas, consiste em uma atribuição do auxiliar de saúde bucal. A sequência correta de procedimentos, durante a revelação de películas radiográficas deverá seguir uma sequência determinada. Identifique a alternativa que expressa esta sequência corretamente.
- A. Água, revelador, fixador e água.
  - B. Água, fixador e revelador.
  - C. Fixador, água e revelador.
  - D. Revelador, água e fixador.
  - E. Revelador, água, fixador e água.
- 30- Dentre as alternativas abaixo, selecione aquela que lista somente instrumentos para a aplicação e realização da escultura de uma restauração em amálgama.
- A. Amalgamador, escavador, e sonda exploradora.
  - B. Aplicador de amálgama, curetas e espátulas de resina.
  - C. Brunidor, aplicador de amálgama e tesoura.
  - D. Esculpidor de *hollemback* e brunidor.
  - E. Aplicador de amálgama, placa de vidro e espátulas.
- 31- O endurecimento das resinas compostas bem como a ativação de grande parte dos adesivos existentes no mercado dependem de um dispositivo, amplamente utilizado em tratamentos odontológicos. Em qual das alternativas abaixo está escrito o nome deste dispositivo?
- A. Amalgamador.
  - B. Gotejador.
  - C. Fotóforo.
  - D. Fotopolimerizador.
  - E. Catalizador.
- 32- A anestesia é muito empregada em consultórios odontológicos e empregada para este fim um tipo específico de seringa. Qual das alternativas abaixo descreve o tipo de seringa, normalmente utilizada, para realizar anestésias em procedimentos odontológicos?
- A. Seringa Luer.
  - B. Seringa Carpule.
  - C. Seringa plástica descartável.
  - D. Seringa tríplice.
  - E. Seringa Pistola.
- 33- O cuidado com os resíduos sólidos provenientes de procedimentos odontológicos é uma preocupação frequente dos profissionais de saúde. Sobre o gerenciamento de resíduos, em consultório odontológico, o que é correto afirmar, segundo as alternativas abaixo?
- I – Os resíduos sólidos, como o mercúrio contido no amálgama, gerado nos consultórios odontológicos, não podem em hipótese alguma, ser reciclados ou recuperados.
  - II – Este tipo de resíduo pode ser descartado em lixo comum, pois não apresenta nenhum tipo de risco.
  - III – Os resíduos de amálgama contendo mercúrio, devem ser acondicionados em recipientes apropriados e destinados à recuperação.
- A. As alternativas II e III são falsas.
  - B. As alternativas I e III são falsas.
  - C. As alternativas I e II são falsas.
  - D. Todas as alternativas são falsas.
  - E. Todas as alternativas estão corretas.
- 34- A raspagem do tártaro que se forma nos dentes é um procedimento corriqueiro nos

consultórios dentários. O aparelho utilizado para raspagem de tártaro nos dentes é chamado de:

- A. Ultrassom.
- B. Contra ângulo.
- C. Caneta de alta rotação.
- D. Alveolótomo.
- E. Compressor.

35- Existe uma solução muito utilizada em bochechos, antes de algumas cirurgias orais. Qual das alternativas listadas a seguir traz o nome desta solução?

- A. Água destilada.
- B. Digluconato de clorexidina.
- C. Soro fisiológico.
- D. Flúoreto de sódio.
- E. Revelador de placa.

36- Entre as afirmações abaixo, identifique aquela que não representa uma medida correta de precaução, que deve ser adotada durante o atendimento e no transporte e descarte de materiais usados em procedimentos odontológicos.

- A. Deve-se manipular materiais perfuro-cortantes, com cuidado e atenção, e descartá-los em local apropriado, como recipientes fechados e com paredes rígidas.
- B. Ao alimentar-se entre um procedimento e outro, permanecer usando o par de luvas empregado no atendimento anterior.
- C. Durante os procedimentos com luvas, não se deve atender telefones, abrir portas com maçanetas, nem tocar em locais passíveis de contaminação.
- D. Lavar as mãos antes e após o atendimento
- E. Não se deve tocar olhos, nariz, boca, máscara ou cabelos, durante a realização de procedimentos ou manipulação de materiais orgânicos.

37- A lavagem das mãos é a ação mais importante para a prevenção e o controle

de infecções. Indique entre as afirmações, quais instruções estão corretas.

I – Esse procedimento deve ser realizado sempre antes do atendimento, ao vestir as luvas e após a remoção destas.

II - Para uma lavagem eficiente das mãos, deve-se utilizar sabonete líquido, ensaboando as mãos até a metade do antebraço, esfregando entre os dedos.

III – As mãos lavadas de forma correta com muita água corrente e sabão e higienizadas com álcool gel, dispensam o uso das luvas durante o atendimento.

- A. Os itens “I” e “II”
- B. Os itens “I” e “III”
- C. Os itens “II” e “III”
- D. Todas as alternativas
- E. Nenhuma das Alternativas

38- Esterilização é um processo, em que os micro-organismos são completamente eliminados, sendo utilizada para garantir o uso seguro dos instrumentais. O equipamento usado na esterilização de brocas, instrumentais de metal, placas e potes de vidros, em consultórios odontológicos está descrita corretamente em qual das alternativas abaixo?

- A. Autoclave.
- B. Imersão em álcool 70%.
- C. Hipoclorito de sódio.
- D. Imersão em um pote hermeticamente fechado com comprimidos de formol.
- E. Todas as alternativas estão corretas.

39- No que se refere ao processo de esterilização, e higienização de equipamentos presentes no consultório odontológico, é incorreto afirmar que:

- A. Os micromotores e contra-ângulos não podem ser submetidos a esterilização por calor, pois serão danificados.
- B. As peças como refletor, cadeira, mocho e canetas de baixa e alta rotação não apresentam riscos de transmissão de infecções. E a limpeza com um pano







## **CENTRO UNIVERSITÁRIO BARRIGA VERDE**

Entidade Mantenedora: Fundação Educacional Barriga Verde – FEBAVE

Utilidade Pública: Municipal Lei nº 543/77 – Estadual Lei nº 5.534 de 31-05-79 – Federal Proc. M.J. nº 74.99/77

Dec. nº. 89.685/84 – Reg. CNAS nº 23002-352/86-00 – CNPJ: 82.975.236/0001-08

Certificado de Entidade Beneficente de Assistência Social – CCEAS 045/2003